

LAURA VALDISERRA

3



# IO, TU E PIÙ

STORIA  
GEOGRAFIA

EDUCAZIONE  
ALLA CITTADINANZA

GIUNTI Scuola

È un libro  
GIUNTI  
Scuola



# IL PAESAGGIO

IMMAGINA DI ESSERE AL MARE O IN MONTAGNA OPPURE NELLA PIAZZA DEL TUO PAESE E DI GUARDARTI INTORNO .... TUTTO CIÒ CHE I TUOI OCCHI VEDONO FORMA IL PAESAGGIO.

I BAMBINI DI UNA TERZA HANNO FATTO DELLE FOTOGRAFIE DEL POSTO DOVE VIVONO PER SPEDIRLE AD ALTRI BAMBINI E FARGLI COSÌ VEDERE IL POSTO DOVE VIVONO.

OSSERVA I PAESAGGI DELLE FOTO. COSA VEDI? DESCRIVILI

QUI VEDO

.....

.....

.....

.....

.....



NELLE FOTO CI SONO PAESAGGI CHE APPARTENGONO AL

O MARE

O MONTAGNA

DOVE VIVI TU VEDI QUESTI PAESAGGI?

CHE PAESAGGIO VEDI SE TI AFFACCI ALLA FINESTRA? RACCONTA




Qui vedo .....

.....

.....

.....

S  
rispo  
Ge



**QUI VEDO**

.....

.....

.....

.....

LA GEOGRAFIA STUDIA E DISEGNA I PAESAGGI CHE CI SONO SULLA TERRA  
GEO = TERRA    GRAFIA = DISEGNO    GEOGRAFIA= DISEGNO DELLA TERRA

# GLI ELEMENTI DEL PAESAGGIO


GUARDANDO IL PAESAGGIO INTORNO A NOI POSSIAMO VEDERE COSE DIVERSI.

CI SONO:

**ELEMENTI NATURALI:** FATTI DALLA NATURA (ALBERI, MARE, BOSCO, COLLINE, FIUMI, MONTAGNE,... )

**ELEMENTI ARTIFICIALI:** FATTI DALL'UOMO ( CASE, STRADE, GIARDINI,...)

GUARDA LA FOTO E SCRIVI NELLA TABELLA GLI ELEMENTI AL POSTO GIUSTO



ELEMENTI NATURALI	ELEMENTI ARTIFICIALI

# IL PAESAGGIO SI TRASFORMA

CON IL PASSARE DEL TEMPO IL PAESAGGIO CAMBIA.

PUÒ CAMBIARLO:

**LA NATURA:** CON I TERREMOTI, LE ERUZIONI DEI VULCANI, LA NEVE, IL GHIACCIO, LA PIOGGIA CHE CADE

**L'UOMO:** TAGLIA I BOSCHI, SCAVA LE GALLERIE NELLE MONTAGNE, COSTRUISCE STRADE, CASE, FERROVIE, PORTI,...

OSSERVA LE FOTO E SCRIVI SUL QUADERNO COME L'UOMO HA CAMBIATO IL PAESAGGIO.

PUOI SCRIVERE COSÌ: PER MANGIARE ....., PER VIAGGIARE ....., PER RIPARARSI .....,



# L'UOMO NEL PAESAGGIO

L'UOMO SCEGLIE IL POSTO DOVE ANDARE A VIVERE E CERCA LE COSE CHE GLI SERVONO.  
INFATTI L'UOMO NON PUÒ VIVERE OVUNQUE: IN CERTI POSTI C'È TROPPO CALDO IN ALTRI  
TROPPO FREDDO.

PER VIVERE L'UOMO HA BISOGNO DI :

**ACQUA:** PER BERE, ALLEVARE GLI ANIMALI, COLTIVARE I CAMPI;

**CLIMA TEMPERATO:** UN POSTO DOVE NON C'È TROPPO CALDO O TROPPO FREDDO

IN ITALIA L'UOMO PUÒ VIVERE IN TUTTI I POSTI ANCHE SE SONO DIVERSI TRA LORO.  
ALCUNI PAESI SONO IN COLLINA PER VEDER ARRIVARE I NEMICI E DIFENDERSI;  
ALTRI SONO VICINI AL MARE PERCHÉ I SUOI ABITANTI ERANO PESCATORI O NAVIGATORI;  
ALTRI PAESI SONO VICINI AI FIUMI PER PRENDERE L'ACQUA;  
OGGI LE CITTÀ PIÙ GRANDI E I PAESI SONO IN PIANURA DOVE È PIÙ FACILE COLTIVARE I  
CAMPI E COSTRUIRE LE CASE, LE STRADE, LE FABBRICHE.



# VARI TIPI DI PAESAGGIO


SE MENTRE VIAGGI IN AUTO O MACCHINA, GUARDI FUORI DAL FINESTRINO, PUOI VEDERE TANTI PAESAGGI MOLTO DIVERSI.

IN ITALIA CI SONO DIVERSI TIPI DI PAESAGGI:

**PAESAGGIO URBANO:** SONO LE CITTÀ




**PAESAGGIO INDUSTRIALE:** DOVE CI SONO LE FABBRICHE



**PAESAGGIO AGRICOLO:** DOVE CI SONO I CAMPI CHE I CONTADINI COLTIVANO E LA  
CASA DEL CONTADINO



**PAESAGGIO TURISTICO:** DOVE LE PERSONE VANNO IN VACANZA E CI SONO GLI  
ALBERGHI, I RISTORANTI, LA SPIAGGIA CON GLI OMBRELLONI





# IL PAESAGGIO



QUALI TIPI DI PAESAGGI VEDI IN QUESTE FOTO?

COMPLETA SCRIVENDO: URBANO, AGRICOLO, INDUSTRIALE, TURISTICO.

È un paesaggio .....



È un paesaggio .....

PER OGNI PAESAGGIO DELLA FOTO SCRIVI ELEMENTI NATURALI E ARTIFICIALI

PAESAGGIO .....	
ELEMENTI NATURALI	ELEMENTI ARTIFICIALI

PAESAGGIO.....	
ELEMENTI NATURALI	ELEMENTI ARTIFICIALI

# GLI AMBIENTI GEOGRAFICI

GLI AMBIENTI GEOGRAFICI IN ITALIA SONO:

LA MONTAGNA

LA COLLINA

LA PIANURA

LA CITTÀ

IL LAGO


IL FIUME


IL MARE.

OGNUNO HA UN TERRITORIO PARTICOLARE, DEGLI ANIMALI E DELLE PIANTE CHE CI VIVONO.

IN OGNI AMBIENTE CI VIVONO DELLE PERSONE CHE FANNO UN LAVORO.

OSSERVA QUESTE FOTO SCRIVI NEI RIQUADRI IL NOME DEGLI AMBIENTI





.....

.....



.....

.....



.....

.....

# LA MONTAGNA

LE MONTAGNE HANNO:

**LA CIMA** (PUNTA) COPERTA DI NEVE,

I **GHIACCIAI** CIOÈ DELLE RISERVE DI ACQUA

I **VALICHI** CIOÈ DEI PASSAGGI TRA UN MONTE E L'ALTRO PER PASSARE DALL'ALTRA PARTE DELLE MONTAGNE;


I **MASSICCI** CIOÈ DELLE MONTAGNE SOLE;

**CATENE MONTUOSE** CIOÈ TANTI MONTI VICINI;

I **VERSANTI** CIOÈ I LATI DELLE MONTAGNE CHE ARRIVANO FINO ALLE **VALLI** DOVE CI SONO DEI PAESI O DELLE PICCOLE CITTÀ.

IN ALTO SUI MONTI INVECE CI SONO LE BAITE DELLE CASINE DI LEGNO.

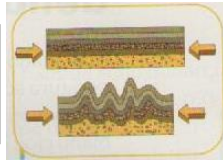
**GUARDA IL DISEGNO, LEGGI I CARTELLINI E SCRIVI I NOMI IN ROSSO AL POSTO GIUSTO.**



# L'ORIGINE DELLE MONTAGNE

LE MONTAGNE SI SONO FORMATE TANTI ANNI FA QUANDO C'ERANO TERREMOTI E VULCANI.

IL FONDO DEL MARE SI È SOLLEVATO  
E SI SONO FORMATE LE **MONTAGNE**.



LA **LAVA** CHE USCIVA DAL CENTRO DELLA  
TERRA INVECE **HA FORMATO I VULCANI**.



CON IL PASSARE DEGLI ANNI LE MONTAGNE SONO CAMBIATE.

IL VENTO, LA NEVE E IL GHIACCIO ROMPONO LA ROCCIA E LA PIOGGIA PORTA I PEZZETTI DI ROCCIA E I SASSI A VALLE.

QUINDI PIAN PIANO LE MONTAGNE SI ABBASSANO:

QUELLE PIÙ VECCHIE HANNO LA CIMA ARROTONDATA,

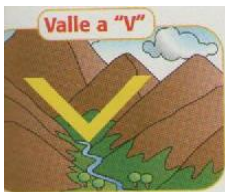
QUELLE PIÙ GIOVANI HANNO LA CIMA A PUNTA.

## COME SI SONO FORMATE LE VALLI

LE VALLI SI SONO FORMATE IN DUE MODI:


UN FIUME SCORRENDO HA SCAVATO LE MONTAGNE

E HA FORMATO LA VALLE CHE HA LA FORMA A V



UN GHIACCIAIO È SCIVOLATO VERSO VALLE

E HA FORMATO UNA VALLE A FORMA DI U



# ANIMALI E PIANTE DELLA MONTAGNA

IN MONTAGNA PIÙ VAI IN ALTO PIÙ C'È FREDDO.

PER QUESTO SALENDO CAMBIANO GLI ANIMALI E LE PIANTE.

TRA I 2500 E I 3000 METRI C'È MOLTO FREDDO.

CI VIVONO SOLO LE **AQUILE**,  
CRESCONO I **MUSCHI** E I **LICHENI**.

TRA I 2000 E I 2500 CRESCONO IL **PINO MUGO**, IL **RODODENDRO** E LA **STELLA ALPINA**.

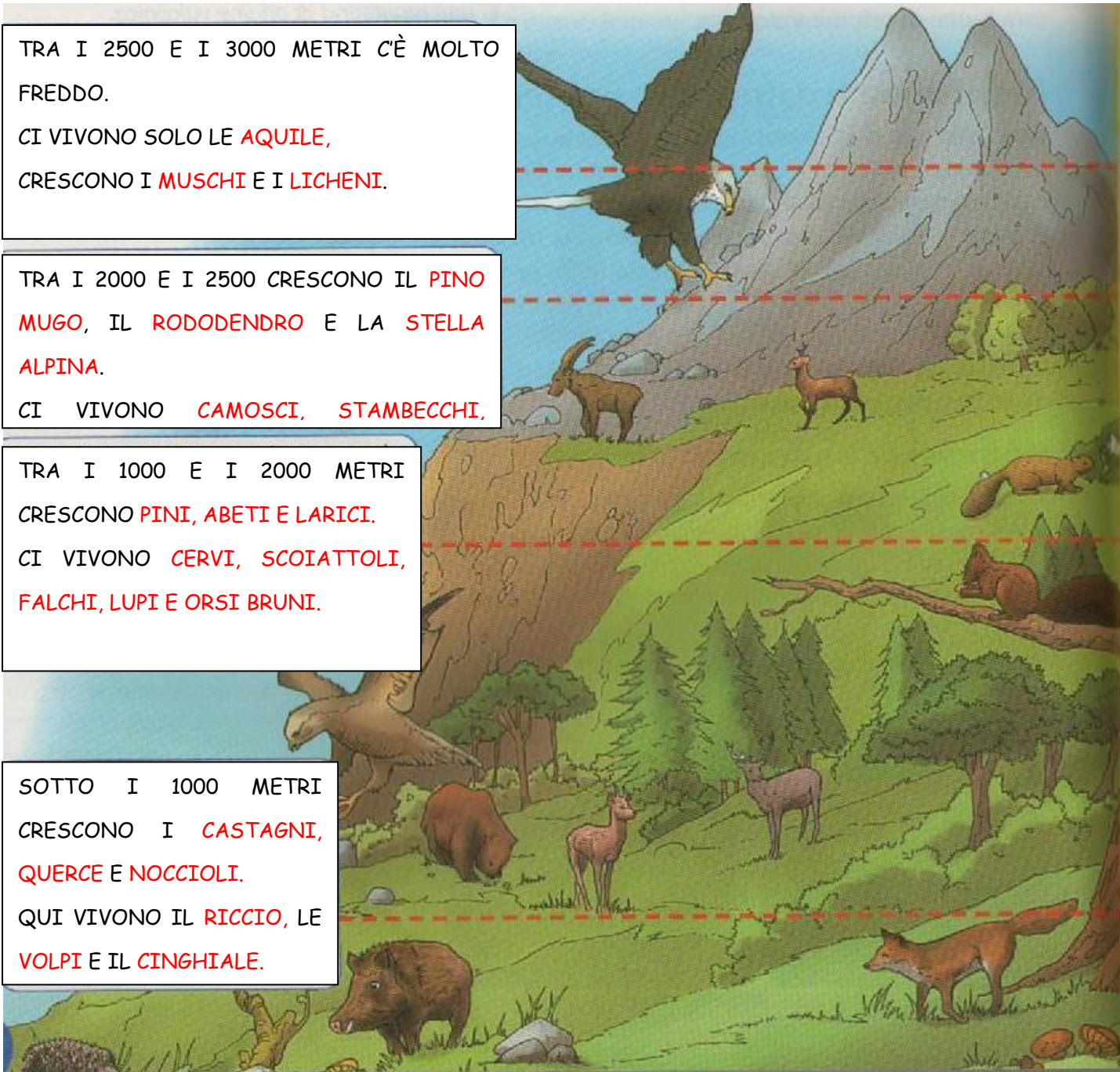
CI VIVONO **CAMOSCI**, **STAMBECCHI**,

TRA I 1000 E I 2000 METRI  
CRESCONO **PINI**, **ABETI** E **LARICI**.

CI VIVONO **CERVI**, **SCOIATTOLI**,  
**FALCHI**, **LUPI** E **ORSI BRUNI**.

SOTTO I 1000 METRI  
CRESCONO I **CASTAGNI**,  
**QUERCE** E **NOCCIOLI**.

QUI VIVONO IL **RICCIO**, LE  
**VOLPI** E IL **CINGHIALE**.



# I PARCHI NATURALI

SPESSO GLI ANIMALI E LE PIANTE SONO IN PERICOLO A CAUSA DELL'UOMO, DELLA CACCIA, DELL'INQUINAMENTO, ...

PER QUESTO MOTIVO CI SONO **I PARCHI NATURALI** CIOÈ DELLE **ZONE IN CUI ANIMALI E PIANTE VENGONO PROTETTE.**

QUI È VIETATO CACCIARE, PESCARE, RACCOGLIERE I FIORI, COSTRUIRE CASE.

**IL PIÙ GRANDE PARCO IN ITALIA È IL GRAN PARADISO.**

SI TROVA SULLE **ALPI** E IL SUO SIMBOLO È LO STAMBECCO.




**HAI MAI VISTO UN PARCO NATURALE?**

**ECCO ALCUNE REGOLE CHE DEVI RISPETTARE QUANDO SEI DENTRO AL PARCO**



NON RACCOGLIERE I FIORI



NON URLARE O FARE TROPPO RUMORE  
PER NON DISTURBARE E SPAVENTARE  
GLI ANIMALI



CAMMINA SEMPRE SUI SENTIERI



NON DAR DA MANGIARE AGLI  
ANIMALI

# VIVERE IN MONTAGNA

IN MONTAGNA CI ABITANO POCHE PERSONE PERCHÉ :


- LE STRADE STRETTE E CON TANTE CURVE RENDONO DIFFICILE SPOSTARSI DA UN POSTO ALL'ALTRO;
- IL TEMPO È MOLTO FREDDO;
- È DIFFICILE COLTIVARE LA TERRA PERCHÉ È IN DISCESA.

GLI UOMINI CHE VIVONO IN MONTAGNA:

- ALLEVANO LE MUCCHE CHE FANNO IL LATTE USATO PER FARE IL FORMAGGIO;



- COSTRUISCONO OGGETTI CON IL LEGNO;



- HANNO ALBERGHI E RISTORANTI DOVE VANNO IN TURISTI IN VACANZA;
- USA L'ACQUA DEI TORRENTI PER PRODURRE L'ENERGIA ELETTRICA.



# LA COLLINA

LE COLLINE SONO PIÙ BASSE DELLE MONTAGNE.

HANNO LA CIMA ARROTONDATA E I VERSANTI SCENDONO PIÙ DOLCEMENTE.

IN COLLINA VEDI **CAMPI COLTIVATI**, **PAESI** SULLE CIME E **CASE COLONICHE** NEI CAMPI.

GLI UOMINI CHE ABITANO IN COLLINA COLTIVANO LA TERRA COSTRUENDO DEI **TERRAZZAMENTI** CIOÈ DE I GRADINI DI TERRA CON DEI MURETTI IN PIETRA DOVE È PIÙ FACILE COLTIVARE.

ALCUNE COLLINE SONO COPERTE DA **BOSCHI** ALTRE INVECE HANNO POCHI ALBERI E SONO SECCHIE.

**GUARDA IL DISEGNO E SCRIVI NEI CARTELLINI I NOMI SCRITTI IN ROSSO NEL TESTO.**



SE VEDI QUALCUNO CHE ACCENDE UN FUOCO O BUTTA UNA SIGARETTA NEI BOSCHI, DILLO SUBITO A UN ADULTO.

QUESTO CARTELLO DICE CHE C'È IL **PERICOLO D'INCENDIO**.

# ANIMALI E PIANTE DELLA COLLINA

NEI BOSCHI IN COLLINA CRESCONO:

PIANTE CON IL TRONCO **CASTAGNI, QUERCE, NOCI**;


**CESPUGLI** COME LE **FELCI**, **AGRIFOGLIO**, **ROVI**.

NEI BOSCHI VIVONO:

**LEPRI, CINGHIALI, VOLPI, RICCI, SCOIATTOLI, BISCE**,



**VOLPE**



MOLTI UCCELLI COME IL **GUFO** E IL **BARBAGIANNI**

## VIVERE IN COLLINA

VIVERE IN COLLINA È BELLO.

IL CLIMA È MITE CIOÈ NÉ TROPPO FREDDO NÉ TROPPO CALDO E SI COLTIVANO I CAMPI.

NEI TERRAZZAMENTI SI COLTIVANO: **OLIVI, VITI, ALBERI AD FRUTTO, GRANO**.

I CONTADINI FANNO **OLIO** E **VINO** E ALLEVANO GLI ANIMALI (**GALLINE, MUCCHE, MAIALI**) CHE FANNO UOVA, LATTE E CARNE.

ALCUNE CASE DI CONTADINI SONO **AGRITURISMI** CIOÈ DEGLI ALBERGHI DOVE PUOI DORMIRE E MANGIARE.



PAESE SULLA  
COLLINA

# MONTAGNA E COLLINA

OSSERVA LE FOTO E SCRIVI IL NOME NEI CARTELLINI.



MONTAGNA	
CHE COS'È?	
COM'È FATTA	
DIFFICOLTÀ DELL'UOMO PER VIVERCI	
RISORSE	
ATTIVITÀ DELL'UOMO	

COLLINA	
CHE COS'È?	
COM'È FATTA	
COSA RENDE FACILE LA VITA DELL'UOMO	
ATTIVITÀ DELL'UOMO	

# LA PIANURA

LA PIANURA È UN POSTO DOVE LA TERRA È PIATTA E NON CI SONO MONTAGNE.

PER L'UOMO È FACILE VIVERCI, COSTRUIRE LE CASE E COLTIVARE I CAMPI.

IN ALCUNE ZONE CI SONO ANCORA **BOSCHI E PALUDI** (TERRE COPERTE DI ACQUA FERMA).

L'UOMO HA FATTO TANTI CAMBIAMENTI NELLA PIANURA COSÌ PUÒ VIVERCI MEGLIO.

HA COSTRUITO:

**STRADE, AEROPORTI** PER SPOSTARSI;

**CASE E CITTÀ** DOVE VIVERE;

**FABBRICHE** DOVE ANDARE A LAVORARE.

HA ANCHE **COLTIVATO I CAMPI**



**QUALI ELEMENTI SCRITTI IN ROSSO VEDI  
NEL DISEGNO?**

**GUARDA BENE E SCRIVILI**

# LE PIANURE HANNO ORIGINI DIVERSE


LE PIANURE SI SONO FORMATE IN MODI DIVERSI:



**PIANURA ALLUVIONALE:** SI È FORMATA DAI SASSI CHE IL FIUME HA PORTATO GIÙ SCENDENDO DALLA MONTAGNA



**PIANURA DI SOLLEVAMENTO:** SI È FORMATA QUANDO SI È SOLLEVATO IL FONDO DEL MARE




**PIANURA VULCANICHE:** SI SONO FORMATE CON LA LAVA E LA CENERE DEI VULCANI

GUARDA LE FOTO E SCOPRI DOVE SI TROVANO IN ITALIA QUESTE DUE PIANURE



SI TROVA IN



SI TROVA IN

# ZONE PALUDOSE

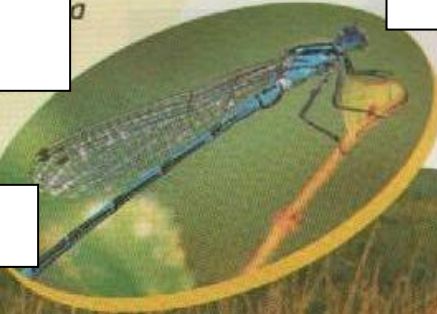


OCHE  
SELVATICHE

LA **PALUDE** È UNA ZONA DI TERRA RICOPERTA DA ACQUA.  
QUI IL TERRENO È MOLLE  
CI CRESCONO MOLTE ERBE E PIANTE COME **CANNE** E  
**PIANTE ACQUATICHE**.

CI VIVONO MOLTI ANIMALI COME: **BISCE**, **RANE**,  
**LIBELLULE**, **RAGNI D'ACQUA**.

IN CERTI MESI DELL'ANNO PUOI VEDERE ANCHE: ANATRE,  
OCHE, FALCHI, AIRONI.



LIBELLULA



RAGNO D'ACQUA



SERPENTE

**DOVE ABITI TU CI SONO DELLE PALUDI?**

**CHIEDI AI TUOI NONNI O AI TUOI  
GENITORI SE SI RICORDANO PALUDI CHE  
OGGI NON CI SONO PIÙ**

# VIVERE IN PIANURA

## AGRICOLTURA E ALLEVAMENTO

VIVERE IN PIANURA È FACILE.

L'**AGRICOLTURA** (COLTIVAZIONE DEI CAMPI) È FACILE PERCHÉ IL TERRENO È PIATTO E SI POSSONO USARE I TRATTORI CHE RENDONO IL LAVORO PIÙ VELOCE.

SI COLTIVANO: **GRANO, RISO, VERDURA, FRUTTA** E L'ERBA CHE SERVE PER DAR DA MANGIARE AGLI ANIMALI.

ANCHE L'**ALLEVAMENTO** È SVILUPPATO GRAZIE ALL'ACQUA E ALL'ERBA.

SI ALLEVANO **MUCCHE, MAIALI, CAVALLI E PECORE**.

QUESTI ANIMALI DANNO CARNE. LATTE.



**LEGGI IL TESTO E RISPONDI ALLE DOMANDE:**

1. PERCHÉ IN PIANURA È FACILE COLTIVARE?
2. CHE COSA SI COLTIVA?
3. PERCHÉ È FACILE ALLEVARE?
4. CHE COSA DANNO GLI ANIMALI?
5. PERCHÉ È FACILE COSTRUIRE STRADE?

## INDUSTRIE DI OGNI TIPO

IN PIANURA CI SONO ANCHE TANTE **FABBRICHE** PERCHÉ È FACILE COSTRUIRE LE STRADE PER TRASPORTARE LE COSE.

CI SONO LE INDUSTRIE:

**ALIMENTARI:** CHE FANNO I CIBI COME I

CASEIFICI (FORMAGGIO, BURRO, YOGURT...)

PASTIFICI (PASTA)

ZUCCHERIFICI (ZUCCHERO)

SALUMIFICI (SALAME, PROSCIUTTO,...)

**MECCANICHE:** FANNO LE MACCHINE, I TRATTORI,...

**FARMACEUTICHE:** FANNO LE MEDICINE

# LA CITTÀ

## IL PAESAGGIO

OSSERVA LE FOTO  
E COMPLETA  
CON LE PAROLE IN  
ROSSO DEL TESTO



IL \_\_\_\_\_

È LA PARTE PIÙ VECCHIA DELLA CITTÀ



I \_\_\_\_\_

SONO LE CASE VICINO AL CENTRO STORICO



LA \_\_\_\_\_

È DOVE CI SONO LE FABBRICHE

LA CITTÀ È TUTTA COSTRUITA DALL'UOMO.

CI SONO: NEGOZI, CASE, SCUOLE, OSPEDALI, ...

QUASI TUTTE LE CITTÀ CI SONO DA MOLTI ANNI.

HANNO UN **CENTRO STORICO** CIOÈ UNA ZONA IN CUI LE  
CASE SONO MOLTO VECCHIE.


QUI CI TROVI: LA CHIESA, IL MUNICIPIO, LA PIAZZA.

## LE PARTI DELLA CITTÀ

VICINO AL CENTRO CI SONO I **QUARTIERI RESIDENZIALI**  
DOVE CI ABITANO LE PERSONE.

SE ANDIAMO PIÙ LONTANO TROVIAMO LA **PERIFERIA**: QUI  
CI SONO GRANDI CONDOMINI DOVE VIVONO LE PERSONE, I  
SUPERMERCATI, LE PISCINE, GLI OSPEDALI.

FUORI DALLA CITTÀ CI SONO LE **ZONE INDUSTRIALI**: QUI CI  
CONO LE FABBRICHE DOVE SI VA A LAVORARE



LA \_\_\_\_\_ HA GRANDI  
CONDOMINI, SUPERMERCATI, PISCINE,



# LA VITA IN CITTÀ'

LE CITTÀ SONO DIVENTATE SEMPRE PIÙ GRANDI.

CI ABITANO SEMPRE PIÙ PERSONE PER ESSERE PIÙ COMODE PER ANDARE AL LAVORO E QUINDI SERVONO CASE.

TANTE PERSONE ABITANO FUORI DALLA CITTÀ E TUTTI I GIORNI VANNO IN CITTÀ A SCUOLA O A LAVORARE: SONO I PENDOLARI.

PER FARE VIVERE BENE LE PERSONE IN CITTÀ CI SONO MOLTI SERVIZI: SCUOLE, OSPEDALI, NEGOZI, TRAM, PISCINE, PALESTRE, SCUOLE, BIBLIOTECHE,...

IN CITTÀ CI SONO ANCHE COSE BRUTTE: L'ARIA È INQUINATA; CI SONO POCHI PARCHI E CAMPI DOVE GIOCARE, C'È MOLTO TRAFFICO E MOLTA CONFUSIONE.

## IMPARO DAL TESTO.

SOTTOLINEA NEL TESTO IN 3 COLORI DIVERSI LE RISPOSTE A QUESTE DOMANDE:

1. PERCHÉ MOLTE PERSONE VIVONO IN CITTÀ?
2. QUALI SONO LE COSE BELLE CHE TROVI IN CITTÀ?
3. E LE COSE BRUTTE?

INSIEME PER ...

... CONOSCERE L'AMBIENTE IN CUI VIVIAMO.

LA CITTÀ HA MOLTI SERVIZI.

QUALI CI SONO ANCHE DOVE VIVI TU?

ASILO NIDO

AUTOBUS

STADIO

OSPEDALE

PISCINA

BANCA

TRAM

PALAZZETTO

AEROPORTO

CINEMA

UFFICI DEL

VETERINARI

DELLO

PUNTI

STAZIONE

COMUNE

O

SPORT

INTERNET

TEATRO

POSTA

VIGILI DEL

GIARDINI E

BIBLIOTECA

FUOCO

PARCHI

# USARE I MEZZI PUBBLICI

IN TUTTE LE CITTÀ C'È MOLTO TRAFFICO PERCHÉ CI SONO TANTE AUTO CHE FANNO MOLTO RUMORE E INQUINAMENTO.

PER QUESTO È IMPORTANTE NON USARE SEMPRE L'AUTO MA PRENDERE I MEZZI PUBBLICI (TRAM, TRENO, PULLMAN) PER SPOSTARSI.

COSÌ SI INQUINA MENO E LA CITTÀ È PIÙ BELLA E C'È MENO RUMORE.

HAI MAI PRESO UN TRAM O UN AUTOBUS? SAI COME CI SI COMPORTA?

LEGGI QUI SOTTO LE REGOLE

Ecco alcune semplici, ma importanti regole.



SALI SOLO QUANDO IL TRAM È FERMO.  
SI SALE DA UNA PORTA E SI SCENDE  
DALL'ALTRA!!!  
NON SBAGLIARE

APPENA SALITO TIMBRA IL BIGLIETTO  
NELLE MACCHINETTE,  
SE DEVI STARE IN PIEDI AGGRAPPATI A  
QUALCOSA: SE IL TRAM FRENA  
ALL'IMPROVISO POTRESTI CADERE,



QUANDO VUOI  
SCENDERE  
SCHIACCIA IL  
BOTTONE ROSSO  
PER PRENOTARE.



SCENDI SOLO QUANDO  
L'AUTOBUS È FERMO.  
QUANDO SEI SCESO,  
ASPETTA SUL  
MARCIAPIEDE CHE  
L'AUTOBUS RIPARTA.



# PIANURA E CITTA'

COMPLETA LO SCHEMA

## LA PIANURA

CHE COS'È	COM'ERA UN TEMPO	COME NASCE	CHE LAVORI FA L'UOMO

OSSERVA LA FOTO DI QUESTA CITTÀ



CHE PARTE DELLA CITTÀ VEDI? \_\_\_\_\_

DA COSA LO CAPISCI? \_\_\_\_\_

CHE COSA PUOI TROVARE IN QUESTA PARTE DELLA CITTÀ? **SEGNA CON UNA X**

O GRANDI INDUSTRIE   O NEGOZI   O MUSEI   O UN AEROPORTO

# IL FIUME

IL FIUME NASCE IN MONTAGNA DA UNA **SORGENTE**.

SUBITO È PICCOLO UN **RUSCELLO** POI, QUANDO COMINCIA A SCENDERE IN PIANURA, DIVENTA SEMPRE PIÙ GROSSO E SI UNISCE CON, FORMANDO IL **TORRENTE**.


IL TORRENTE VA VELOCE E SE FA UN SALTO FORMA LE **CASCATE**.

MAN MANO CHE SCENDE SI UNISCE AD ALTRI TORRENTI E FORMANO UN FIUME CHE SCAVA LA TERRA IL **LETTO** E HA 2 RIVE.

IN PIANURA IL FIUME VA PIANO E FORMA DELLE CURVE.

DURANTE IL VIAGGIO NEL FIUME ENTRANO ALTRI FIUMI, GLI **AFFLUENTI**.

**LEGGI BENE E SCRIVI I NOMI NEI CARTELLINI**



## LA FOCE

ALLA FINE DEL SUO VIAGGIO IL FIUME ARRIVA NEL MARE.

IL PUNTO IN CUI IL FIUME SI BUTTA NEL MARE SI CHIAMA FOCE E PUÒ ESSERE:

### A DELTA

IL FIUME SI DIVIDE  
IN TANTI RAMI



### A ESTUARIO

IL FIUME SI ALLARGA  
E HA UN SOLO RAMO



# LA VITA INTORNO AL FIUME

## LA FLORA E LA FAUNA

VICINO AL FIUME CRESCONO MOLTE **PIANTE**:  
**CESPUGLI, CANNE**, QUERCE, SALICI, PIOPPI.

TRA I RAMI DEGLI ALBERI CI VIVONO GLI  
**UCCELLI ACQUATICI**: IL MARTIN PESCATORE,  
LA FOLAGA,, L'AIRONE, L'OCA SELVATICA.

NELL'ACQUA VIVONO **I PESCI** : LA TROTA, LA  
CARPA, IL LUCCIO, L'ANGUILLA.

VICINO AL FIUME VIVONO ANCHE GLI **ANFIBI**  
COME LA RANA E LA SALAMANDRA.

E ALCUNI **INSETTI**: LIBELLULE E ZANZARE.



## IL FIUME E L'UOMO

IL FIUME È MOLTO IMPORTANTE PER LA VITA DELL'UOMO PERCHÈ:

- DÀ L'ACQUA PER IRRIGARE I CAMPI, DAR DA BERE AGLI ANIMALI; FAR FUNZIONARE LE FABBRICHE;
- CON LA FORZA DELL'ACQUA LE CENTRALI IDROELETTRICHE FANNO L'ENERGIA ELETTRICA;
- SI PUÒ PESCARE;
- CI SI PUÒ NAVIGARE CON LE BARCHE;
- DÀ SABBIA E GHIAIA PER COSTRUIRE LE CASE.

## INSIEME PER ...

### ... CONOSCERE IL PROPRIO TERRITORIO

FAI UNA RICERCA SU UN FIUME CHE C'È VICINO A DOVE ABITI.

CERCA DELLE INFORMAZIONI: DOVE NASCE, DOVE SCORRE, CHE CITTÀ BAGNA, DOVE ARRIVA,...

# IL LAGO

IL LAGO È UNA GRANDE BUCA PIENA DI ACQUA DOLCE CIOÈ NON SALATA COME QUELLA DEL MARE.

DA DOVE ARRIVA L'ACQUA DEL LAGO?

SE IL LAGO È APERTO L'ACQUA GLI ARRIVA DA UN FIUME (**IMMISSARIO**) E POI ESCE CON UN ALTRO FIUME (**EMISSARIO**);


SE IL LAGO È CHIUSA L'ACQUA GLI ARRIVA DA FIUMI SOTTERRANEI O DALLA PIOGGIA.

SULLA RIVA CI PUÒ ESSERE LA **SABBIA** OPPURE LA **GHIAIA**.

INTORNO AL LAGO CI SONO MOLTI PAESI E CAMPI CON LE **COLTIVAZIONI**.

SUL LAGO L'UOMO CI COSTRUISCE **PICCOLI PORTI** PER LE BARCHE E I MOTOSCAFI

**LEGGI IL TESTO E COMPLETA I CARTELLINI CON LE PAROLE SCRITTE IN ROSSO.**



# COME SI FORMA UN LAGO

UN LAGO SI PUÒ FORMARE IN MODI DIVERSI.

LEGGI I DIVERSI TIPI DI LAGO E POI SCRIVI IL NUMERO NELLA FOTO GIUSTA.

1 **LAGO COSTIERO**: SI È FORMATO VICINO AL  
MARE E HA L'ACQUA SALATA.

2 **LAGO VULCANICO**: SI È FORMATO NEL CRATERE  
DI UN VULCANO SPENTO

3 **LAGO ARTIFICIALE**: L'HA FATTO L'UOMO CHIUDENDO UN  
FIUME CON UNA DIGA.

4 **LAGO GLACIALE**: SI È FORMATO IN UNA BUCA DEL  
TERRENO DOVE C'ERA UN  
GHIACCIAIO CHE SI È SCIOLTO

## VIVERE VICINO AL LAGO


AL LAGO CI VANNO TANTI TURISTI IN VACANZA  
PERCHÉ SI STA BENE, C'È LA NATURA DA VISITARE E  
SI POSSONO FARE DEGLI SPORT COME LA VELA E IL  
WINDSURF.

SULLE RIVE CI SONO MOLTI CAMPI DOVE COLTIVANO  
FRUTTA E VERDURA.

## IL CLIMA VICINO AL LAGO

VICINO AL LAGO NON FA MAI NÉ TROPPO CALDO  
NÉ TROPPO FREDDO.

SI DICE CHE IL CLIMA È MITE PERCIÒ È BELLO  
VIVERCI.



# IL MARE

QUANDO GUARDI IL MARE SEMBRA CHE CIELO E TERRA SI TOCCHINO.

IL MARE TOCCA LA TERRA SULLA **COSTA** CHE PUÒ ESSERE **ALTA** E CON LA ROCCIA OPPURE **BASSA** E CON LA SABBIA.

LUNGO LA COSTA CI SONO DELLE PICCOLE MONTAGNE I **PROMONTORI** CHE ENTRANO NEL MARE.

CI SONO ANCHE DELLE RIENTRANZE CHE POSSONO ESSERE GRANDI I **GOLFI** OPPURE PICCOLE LE BAIE.

IN MEZZO AL MARE CI SONO DELLE **ISOLE**.

TANTE ISOLE VICINE FORMANO L'ARCIPELAGO.

OSSERVA IL DISEGNO E SCRIVI NEI CARTELLINI LE PAROLE SCRITTE IN ROSSO.





# SULLE COSTE E NELLE ACQUE DEL MARE

## IN RIVA AL MARE

SULLA COSTA CI SONO MOLTE PIANTE E VIVONO ANIMALI DIVERSI.


CI SONO:

LA **MACCHIA MEDITERRANEA**: ROSMARINO, LAVANDA, MIRTO E ALLORO;

GLI **ALBERI**: PINI MARITTIMI, QUERCE DA SUGHERO, OLEANDRI.

FRA LE PIANTE VIVONO I RICCI, I CINGHIALI E GLI ISTRICI.

SULLA RIVA VIVONO GLI **UCCELLI**: I GABBIANO, GLI AIRONI E I FENICOTTERI.



## NEL MARE

DENTRO IL MARE VIVONO:

**PESCI** DI TUTTE LE FORME E I COLORI;

**MOLLUSCHI**: POLIPO, VONGOLE, COZZE,....;

**CROSTACEI**: ARAGOSTA, GRANCHIO;

**MAMMIFERI**: BALENA E DELFINO.

SUL FONDO, ATTACCATE ALLE ROCCE CI SONO **ALGHE, SPUGNE E I CORALLI**.



IL MASCHIO DEL PESCE SPINARELLO FA IL NIDO CON DEI PEZZI DI ALGA.

LA FEMMINA ENTRA E CI FA LE UOVA.



# L'UOMO E IL MARE

## PESCA E COMMERCIO

L'UOMO USA IL MARE PER LA PESCA.

TANTI ANNI FA SI USAVANO DELLE PICCOLE BARCHE, OGGI INVECE CI SONO GRANDI NAVI CHE RESTANO IN MARE TANTI GIORNI.

GLI UOMINI PESCANO IL PESCE POI LO PULISCONO E LO METTONO NEI FRIGORIFERI CHE CI SONO SULLE NAVI.

IL MARE SERVE ANCHE PER TRASPORTARE LE MERCI E LE PERSONE.


## PORTI, INDUSTRIE E TURISMO

SULLE COSTE CI SONO I PORTI COMMERCIALI DOVE ARRIVANO E PARTONO LE NAVI CHE TRASPORTANO LE COSE E PORTI TURISTICI DOVE ARRIVANO LE NAVI CON LE PERSONE.

VICINO AI PORTI CI SONO LE INDUSTRIE CHE LAVORANO LE COSE CHE PORTANO LE NAVI: METALLO, PETROLIO.

CI SONO ANCHE I CANTIERI NAVALI DOVE SI COSTRUISCONO LE NAVI.

AL MARE VANNO ANCHE MOLTI TURISTI IN VACANZA: PERCIÒ CI SONO ALBERGHI, RISTORANTI E SPIAGGE.



GUARDA LE FOTO E SCRIVI DI CHE TIPO DI PORTO SI TRATTA.

POI DESCRIVI QUELLO CHE VEDI NELLA FOTO



# MARE, FIUME E LAGO

LEGGI LE DEFINIZIONI E SCRIVILI AL POSTO GIUSTO I NOMI:

FOCE

SORGENTE

ARCIPELAGO

GOLFO

AFFLUENTE

PROMONTORIO

FIUME CHE SI UNISCE A UN ALTRO FIUME: \_\_\_\_\_

PUNTO IN CUI NASCE IL FIUME: \_\_\_\_\_

LUOGO IN CUI IL FIUME ARRIVA AL MARE: \_\_\_\_\_

GRANDE INSENATURA NELLA COSTA: \_\_\_\_\_

PICCOLA MONTAGNA CHE ESCE DALLA COSTA: \_\_\_\_\_

INSIEME DI ISOLE: \_\_\_\_\_

CHE LAVORI FA L'UOMO IN QUESTI AMBIENTI?

MARE	LAGO

SCRIVI COME L'UOMO USA L'ACQUA DEL FIUME

---

---

---

---

GUARDA LE FOTO E RISPONDI ALLE DOMANDE

CHE ATTIVITÀ FA L'UOMO IN QUESTA FOTO?

---

---

CHE TIPO DI COSTA VEDI?


O ALTA E ROCCIOSA

O BASSA E SABBIOSA



# RAPPRESENTARE LO SPAZIO

LA MAESTRA HA DETTO AI BAMBINI DI DISEGNARE LA LORO AULA CON TUTTI I MOBILI.  
ECCO I DISEGNI DI MARTINA E MICHELE.



OSSERVA I DISEGNI CHE RAPPRESENTANO LA STESSA AULA.

RISPONDI

I BAMBINI HANNO DISEGNATO L'AULA DA DUE PUNTI DI VISTA DIVERSI.

CHI DEI DUE HA FATTO L'AULA VISTA DALL'ALTO?

MARTINA       MICHELE

QUALE DISEGNO TI FA CAPIRE MEGLIO COM'È L'AULA E LE COSE CHE CI SONO DENTRO?

MARTINA       MICHELE


CONFRONTA I DISEGNI E SPIEGA COSA TI FA VEDERE OGNI DISEGNO.



# LA PIANTA

ECCO UNA STANZA CON TUTTI I SUOI MOBILI.

GUARDALA BENE



Qui sotto vedi la sua pianta.

**RICONOSCI I DIVERSI MOBILI?  
SCRIVI I LORO NOMI**

1 \_\_\_\_\_  
2 \_\_\_\_\_  
3 \_\_\_\_\_  
4 \_\_\_\_\_  
5 \_\_\_\_\_

The floor plan shows a rectangular room with a door on the right wall. A sofa is located on the left wall, a coffee table in the center, and two armchairs on the right. A lamp is on a side table next to the sofa. A window is on the top wall. The numbered circles correspond to: 1 (bottom left corner), 2 (sofa), 3 (top left corner), 4 (coffee table), and 5 (armchairs).

# RIDURRE PER RAPPRESENTARE

QUANDO VUOI DISEGNARE UNA STANZA O UN AMBIENTE, NON PUOI DISEGNARE GLI OGGETTI GRANDI COME NELLA REALTÀ MA DEVI RIMPICCIOLIRLI PER FARLI STARE NEL FOGLIO.

QUANDO LI RIMPICCIOLISCI DEVE MANTENERE LE PROPORZIONI PER QUESTO DEVI FARE UNA **RIDUZIONE IN SCALA**.

## GUARDA COME SI FA UNA RIDUZIONE IN SCALA

SUL FOGLIO 1 C'È DISEGNATO UN OGGETTO COM'È NELLA REALTÀ.


IL DISEGNO È STATO RIFATTO SU UN FOGLIO CHE HA I QUADRETTI PIÙ PICCOLI (SONO LA METÀ)

IL DISEGNO NON HA CAMBIATO FORMA MA LE LUNGHEZZE SONO LA METÀ

È STATA USATA UNA RIDUZIONE CHE SI INDICA COSÌ: SCALA 1: 2 E SI LEGGE SCALA 1 A 2.


SE I QUADRETTI FOSSERO STATI 3 VOLTE PIÙ PICCOLI L'OGGETTO SAREBBE STATO DISEGNATO IN SCALA 1: 3 .

PIÙ L'OGGETTO È GRANDE NELLA REALTÀ PIÙ BISOGNA RIMPICCIOLIRLO



PROVA TU A RIDURRE LA FIGURA CHE VEDI. CONFRONTA I DUE DISEGNI.

QUALE SCALA HAI USATO?



# DALLA FOTOGRAFIA ALLA PIANTA

PER FARE LA PIANTA DI POSTO BISOGNA CONOSCERE TUTTE LE COSE CHE CI SONO.

PER FARE QUESTO SERVONO DELLE FOTO DALL'ALTO.

PER QUESTO I CARTOGRAFI, LE PERSONE CHE DISEGNANO LE CARTE GEOGRAFICHE, PRIMA SCATTANO DELLE FOTO DAGLI AEREI.



FOTO AEREA DELLA CITTÀ DI VENEZIA



PIANTA DEL CENTRO DI VENEZIA

IL CARTOGRAFO PRIMA DI DISEGNARE LA PIANTA SCATTA TANTE FOTO DALL'ALTO.

POI GUARDA TUTTE LE COSE CHE CI SONO: PIAZZE, STRADE, PALAZZI IMPORTANTI.

PER RAPPRESENTARE QUESTE COSE SULLA CARTA USA DEI SIMBOLI CIOÈ DISEGNI SEMPLICI:

DEI PALAZZI C'È L'IMPRONTA;

LE STRADE SONO LINEE BIANCHE;

LE CHIESE HANNO LE CROCI.

INFINE IL CARTOGRAFO HA INDICATO LA SCALA DI RIDUZIONE CIOÈ QUANTE VOLTE LE COSE SONO STATE RIDOTTE RISPETTO ALLA REALTÀ.



# TANTE CARTE DIVERSE

ESISTONO TANTI MODI DI DISEGNARE GLI AMBIENTI PERCIÒ CI SONO TANTE CARTE DIVERSE:

## LE PIANTE E LE MAPPE

FANNO VEDERE UNO SPAZIO PICCOLO: UNA STANZA, UNA SCUOLA, UN PAESE.

## CARTE TURISTICHE

FANNO VEDERE I MONUMENTI E I MUSEI DI UNA CITTÀ.  
SERVONO AI TURISTI CHE VOGLIONO VISITARE LA CITTÀ.

## CARTE TOPOGRAFICHE

FANNO VEDERE UN TERRITORIO UN PO' PIÙ GRANDE COME LE CITTÀ.

## CARTE STRADALI

FANNO VEDERE LE STRADE, LE FERROVIE, LE AUTOSTRADE E TUTTO CIÒ CHE SERVE PER VIAGGIARE.

## QUALE CARTA USERESTI PER:

FARE UNA GITA CON IL PULMINO?

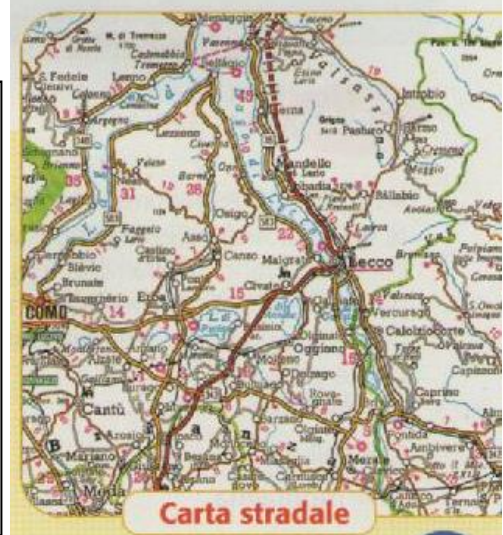

---

TROVARE UNA PIAZZA IN UNA CITTÀ?

---

VISITARE UNA CITTÀ

---



# LE CARTE GEOGRAFICHE

LE CARTE GEOGRAFICHE FANNO VEDERE UN TERRITORIO MOLTO GRANDE COME L'ITALIA O IL MONDO.

CE NE SONO DI 3 TIPI:



## CARTA FISICA

FA VEDERE LE COSE DELLA NATURA USANDO COLORI DIVERSI:

IL MARRONE PER LE MONTAGNE,

IL GIALLO PER LE COLLINE;

IL VERDE PER LA PIANURA;

IL BLU PER MARI, FIUMI, LAGHI,...



## CARTA POLITICA

FA VEDERE COME L'UOMO HA ORGANIZZATO IL TERRITORIO. CI SONO.

LE CITTÀ, I PAESI, LE STRADE, LE FERROVIE, I CONFINI TRA GLI STATI E LE REGIONI



## CARTA TEMATICA

FA VEDERE UNA COSA PARTICOLARE DI QUEL POSTO:

LE COLTIVAZIONI;

LE INDUSTRIE;

LA POPOLAZIONE.

USA SIMBOLI SPECIFICI

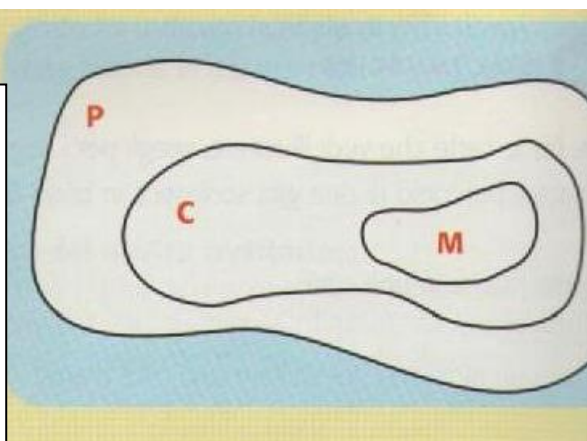
## IMPARO DALL'IMMAGINE

LEGGI E COLORA COME NELLE CARTE FISICHE POI DISEGNA UN FIUME CON IL COLORE GIUSTO

P = PIANURA

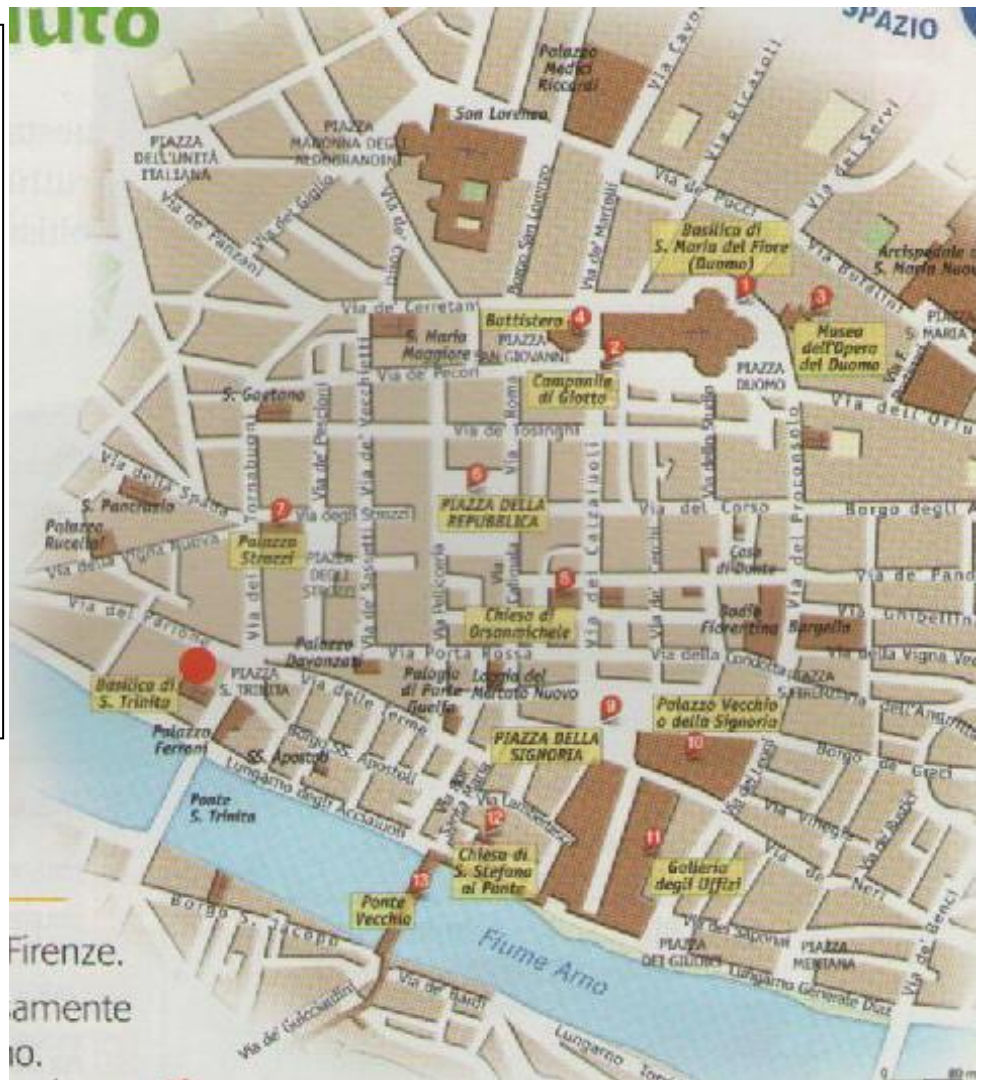
C = COLLINA

M = MONTAGNA



# ORIENTARSI CON L'AIUTO DI UNA PIANTA

PENSA DI ESSERE IN  
UNA CITTÀ CHE NON  
CONOSCI.  
CON LA PIANTA  
DELLA CITTÀ PUOI  
MUOVERTI SENZA  
PROBLEMI.  
TRACCIA UN  
PERCORSO E TROVA  
DEI PUNTI DI  
RIFERIMENTO CIOÈ  
DEI POSTI COME LA  
PIAZZA, LA CHIESA,  
IL MUNICIPIO.



ECCO UNA PIANTA DELLA CITTÀ DI FIRENZE.

TU TI TROVI NEL PUNTO ● IN PIAZZA S. TRINITÀ. DEVI ANDARE AL DUOMO.

PER PRIMA COSA TROVALO SULLA PIANTA E SEGNALO CON ✖

POI SEGNA LA STRADA PIÙ CORTA CHE DEVI FARE.

QUALI PUNTI DI RIFERIMENTO (PALAZZI, MONUMENTI) INCONTRI LUNGO LA STRADA?

---

---

---

ADESSO SCRIVI LA STRADA CHE FAI: INDICA LE STRADE, I MONUMENTI CHE INCONTRI, DA CHE PARTE DEVI GIRARE, ...

---

---

---

# ACQUARIO DI GENOVA

**ACQUARIO DI GENOVA**  
Ti emoziona per natura.



Costa Edutainment spa  
"Divertiamoci Imparando"

Questa è la mappa dell'acquario di Genova, una struttura molto grande che ospita ogni anno moltissime persone.

## Piano VERDE

- 24 Foresta umida del Madagascar (Rane, Parete vegetale e Fiume)
- 25 Il mondo dei Coralli
- 26 Laguna (Squali Pinna Nera, Pesce Palla, Pesce Napoleone, Tartaruga Verde)
- 27 Scogliera Mediterranea (Aquila di mare, Trigoni)
- 28 Vasca Tattile (Razze e Rombi)



- i INFORMAZIONI**
- WC TOILETTE**
- ♿ TOILETTE PER DISABILI**
- ♻️ FASCIATOIO**
- ♿ ASCENSORE PER DISABILI**



Osserva la mappa e trovami: sono in tre stanze diverse!


## Piano ARANCIONE

- 15 Micronesia (Coralli Tropicali)
- 17 Indo-Pacifico (Pesci Chirurgo, Pesci Pagliaccio)
- 18 Pitone Verde
- 19 Discus
- 20 Cicli di Malawi e Tanganika
- 21 Foresta Spinosa del Madagascar (Tartarughe, Iguane)
- 22 Camaleonti
- 23 Coccodrilli giovani
- 24 Foresta umida del Madagascar (Rane, Parete vegetale e Fiume)



Il disegno qua accanto, ti indica in quale piano dell'acquario ti trovi.

GUARDA IL PIANO VERDE E RACCONTA LA STRADA PER ARRIVARE DALLA VASCA DELLE FOCHE A QUELLA DEI DELFINI. QUALI ALTRE VASCHE INCONTRI? CHE STRADA FARESTI NEL PIANO ARANCIONE PER ANDARE DALLA VASCA DEGLI SQUALI AL BAGNO?



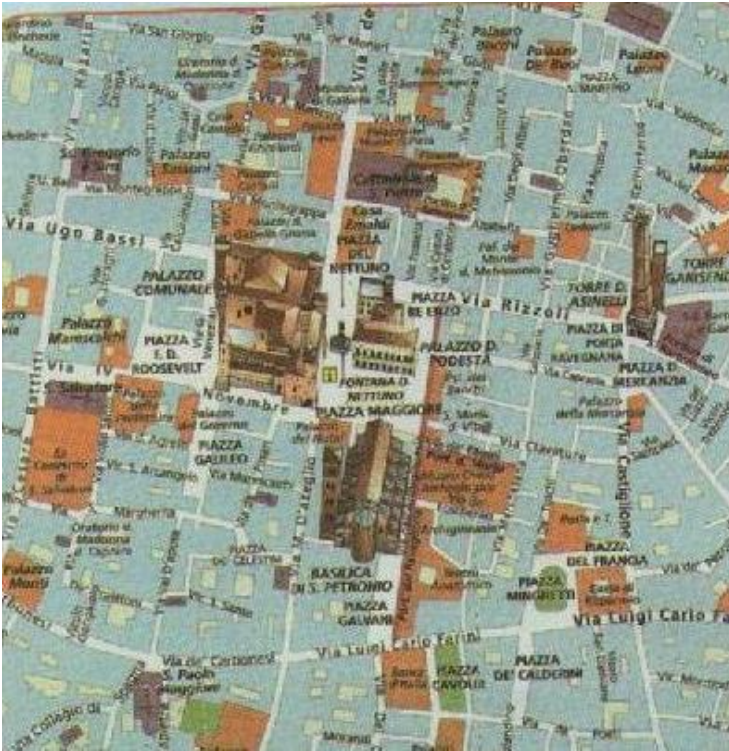
- |   |   |
|---|---|
| 6 Focche  | 32 Eolie (Madrepora Arancione)  |
| 7 Squali (Squali: Grigio, Toro, Pesci Sega e Pesci Luna)  | 33 Sala Meduse (prossima apertura)                                      |
| 11 Delfini  | 34 Molucche   |
| 15 Scogliera Corallina Caraibica (Squalo Nutrice, Tartaruga Verde, Cernia Gigante, Murena Verde, Barracuda) | 35 Mangrovie (Pesci Arciere, Periostaimi)                               |
| 29 Colibri  | 36 Vasca cuccioli   |
| 30 Foresta Umida del Centro America (Iguane e Tartarughe)   | 37 Mar Rosso (Coralli e Pesci Tropicali)                                |
| 31 I fiumi dell'Amazzonia (Caimani, Pesci Gatto, Arowana, Trigoni)  | 38 Onde sulla scogliera (Saraghi, Pagari, Gattucci, Pesci Mediterraneo) |



- |   |   |
|---|---|
| 1 Molo Antico   | 9 Sala Aree Marine Protette (Polpo, Cavallucci Marini, Cernie)  |
| 2 Meduse  | 10 Posidonia  |
| 3 Cilindro (Menole, Boghe e Pesci Pilota)                           | 11 Delfini  |
| 4 Meduse (ciclo di riproduzione)                                    | 12 La Foresta Inondata (Piranha)  |
| 5 Le acque profonde del Mar Mediterraneo (Paromola e Pesci Tamburo) | 13 Scogliera Corallina Caraibica (Squalo Nutrice, Tartaruga Verde, Cernia Gigante, Murena Verde, Barracuda) |
| 6 Focche  | 14 Antartide (Pesce del Ghiaccio)   |
| 7 Squali (Squali: Grigio, Toro, Pesci Sega e Pesci Luna)            | 15 Pinguini   |
| 8 Cinque Terre (Pesci Trombetta, Gorgonie Rosse)                    |   |



# LO SPAZIO RAPPRESENTATO



OSSERVA QUESTA PIANTA DELLA CITTÀ DI BOLOGNA

QUALI PIAZZE VEDI? SCRIVI IL NOME:

---

---

CI SONO DELLE CHIESE? COME SI CHIAMANO?

---

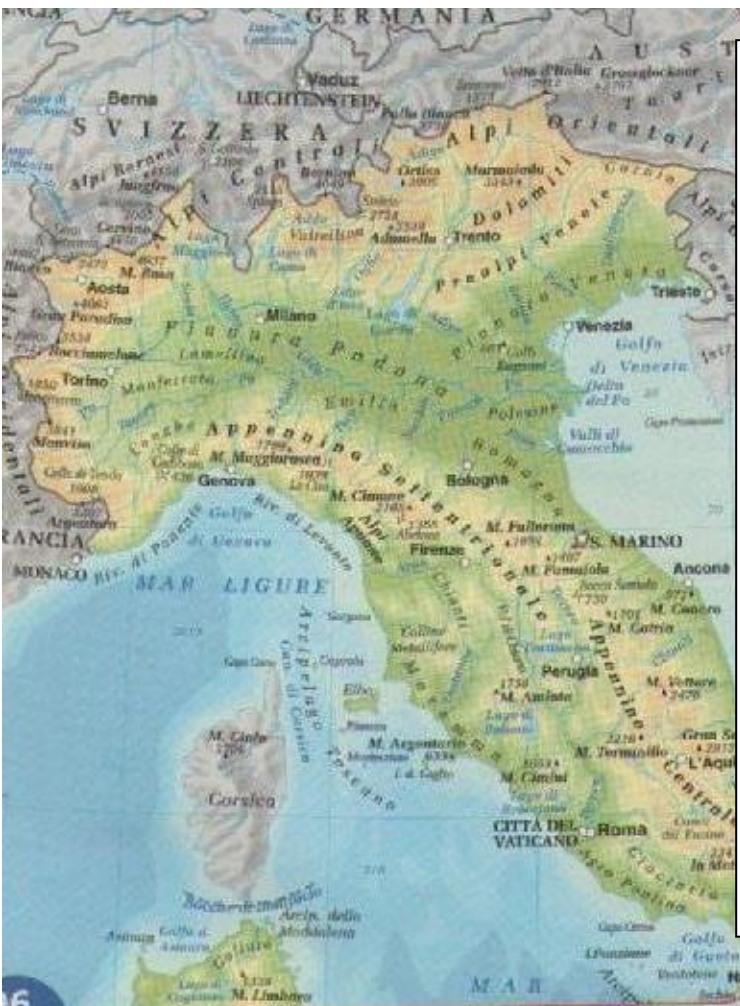
---

SEGNA LA STRADA PIÙ CORTA DA PIAZZA SAN DOMENICO A PIAZZA MAGGIORE E SCRIVI IL NOME DELLE VIE

---

---

---



GUARDA QUESTA CARTA GEOGRAFICA CHE RAPPRESENTA UNA PARTE DEL TERRITORIO DELL'ITALIA.

È

- UNA CARTA FISICA;
- UNA CARTA POLITICA;
- UNA CARTA TEMATICA.

COME SI CHIAMA LA PIANURA PIÙ GRANDE CHE VEDI?

---

---

DA CHE FIUME È ATTRAVERSATO?

---

---

SOTTOLINEA IL NOME DI UNA CATENA MONTUOSA